


évaluation numération et opérations

 écris les nombres de 0 à 20 dans l'ordre /1

--	--	--	--	--	--	--	--	--	--	--	--	--	--	--	--	--	--	--	--

i complète avec <, >, = /3

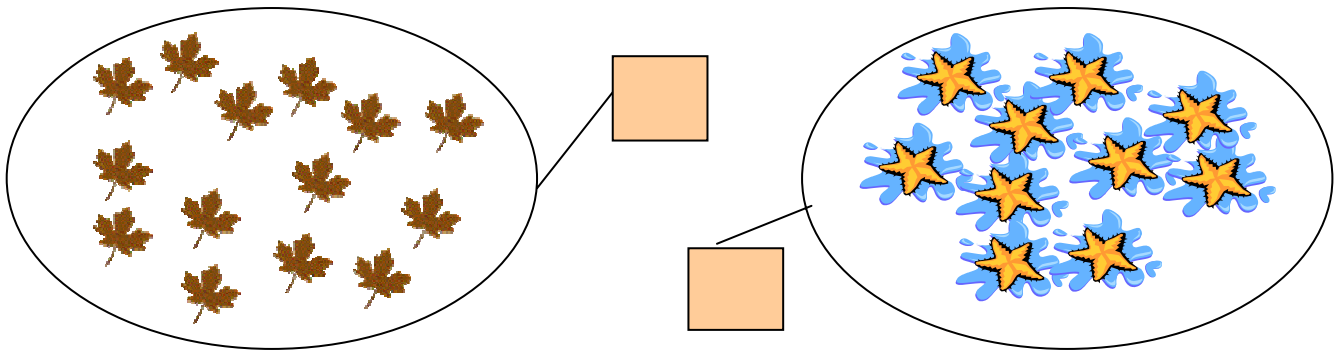
$13 < 19$ $5 . 8$ $12 . 12$ $14 . 7$
 $11 . 6$ $15 . 12$ $7 . 7$

o classe du plus petit au plus grand /4

14 – 5 – 12 – 6 – 17 – 9 – 10 – 1 – 20

1																			
---	--	--	--	--	--	--	--	--	--	--	--	--	--	--	--	--	--	--	--

complète l'étiquette /1



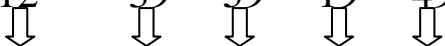
☺ effectue les additions /6

$3 + 5 =$ $12 + 4 =$ $3 + 8 =$ $7 + 6 =$
 $14 + 5 =$ $8 + 9 =$ $9 + 7 =$ $14 + 6 =$
 $5 + 7 =$ $7 + 7 =$ $12 + 7 =$ $5 + 5 =$


effectue les additions /5

$\begin{array}{r} 23 \\ +22 \\ \hline \end{array}$	$\begin{array}{r} 15 \\ +34 \\ \hline \end{array}$	$\begin{array}{r} 17 \\ +32 \\ \hline \end{array}$	$\begin{array}{r} 37 \\ +14 \\ \hline \end{array}$	$\begin{array}{r} 31 \\ +25 \\ \hline \end{array}$
--	--	--	--	--

écris le nombre qui vient juste après /2,5

12 39 59 19 49


écris le nombre qui vient juste avant /2,5


 50 60 11 20 34

reconnâître un nombre dit /10

1	2	3	4	5	6	7	8	9	10
11	12	13	14	15	16	17	18	19	20
21	22	23	24	25	26	27	28	29	30
31	32	33	34	35	36	37	38	39	40
41	42	43	44	45	46	47	48	49	50
51	52	53	54	55	56	57	58	59	60
61	62	63	64	65	66	67	68	69	70
71	72	73	74	75	76	77	78	79	80
81	82	83	84	85	86	87	88	89	90
91	92	93	94	95	96	97	98	99	100

dictée de nombres /5

--	--	--	--	--

TOTAL /40

observations :

géométrie

reconnaissance de formes (les ronds en jaune, les triangles en rouge, les rectangles en bleu et les carrés en vert)

